

ГODOVAYА KONTPOЛbHAYА PABOTА 3А 2 KЛACС

1. CКОЛbКО В ЧИСЛЕ ДЕЦИМЕТРОВ И САНТИМЕТРОВ

$$10 \text{ CM} = 1 \text{ ДМ}$$

$$1 \text{ ДМ} = 10 \text{ CM}$$

$$15 \text{ CM} = \quad \text{ДМ} \quad \text{CM}$$

$$19 \text{ CM} = \quad \text{ДМ} \quad \text{CM}$$

$$20 \text{ CM} = \quad \text{ДМ} \quad \text{CM}$$

2. CПРАВНИ (< > =)

20р.

15р.

6см

3см

0кг


10кг

10см


1дм

3. ОПРЕДЕЛИ УГЛЫ И СОЕДЕНИ


ТУПОЙ



ПРЯМОЙ



ОСТРЫЙ



4. ВЫПОЛНИ СЛОЖЕНИЕ

$$11 + 1 = 12$$


$$8\text{р.} + 5\text{р.} =$$

$$15\text{см} + 4\text{см} =$$

$$12\text{р.} + 8\text{р.} =$$

$$10\text{л} + 0\text{л} =$$

5. ВЫПОЛНИ ВЫЧИТАНИЕ

$$11 - 1 = 10$$


$$11\text{кг} - 4\text{кг} =$$

$$17\text{л} - 7\text{л} =$$

$$11\text{см} - 11\text{см} =$$

$$20\text{р.} - 0\text{р.} =$$

6. РЕШИ ЗАДАЧУ

На тарелке было 7 конфет. Положили ещё 3 конфеты. Сколько всего конфет стало на тарелке?

Было - _____

Положили - _____

Всего - _____

Решение _____

Ответ: _____

7. РЕШИ ЗАДАЧУ

На ветке сидели 10 птиц. Улетели 5 птиц. Сколько птиц осталось на ветке?

Сидели - _____

Улетели - _____

Осталось - _____

Решение _____

Ответ: _____

8. РЕШИ ЗАДАЧУ

Саша нашёл 9 грибов, а Коля на 5 грибов больше. Сколько грибов нашёл Коля?

Саша - _____

Коля - _____


Решение - _____

Ответ: _____

ГODOVAYА KONTPOЛbHAYА PABOTА 3A 2 KЛACС

Соловьёва Платона

1. COOTHECИ KOЛИЧECCTBO И ЦИФPУ



4



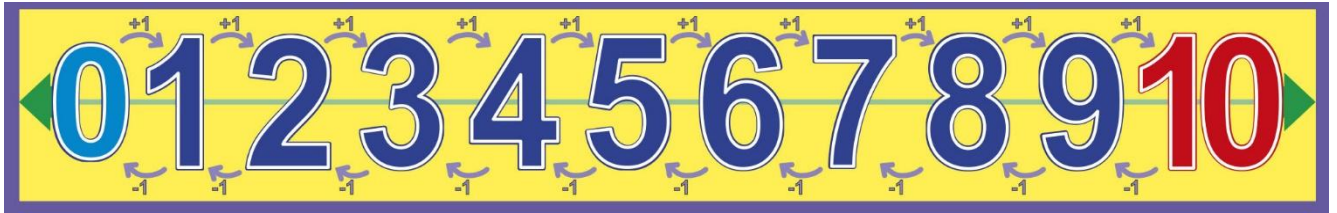
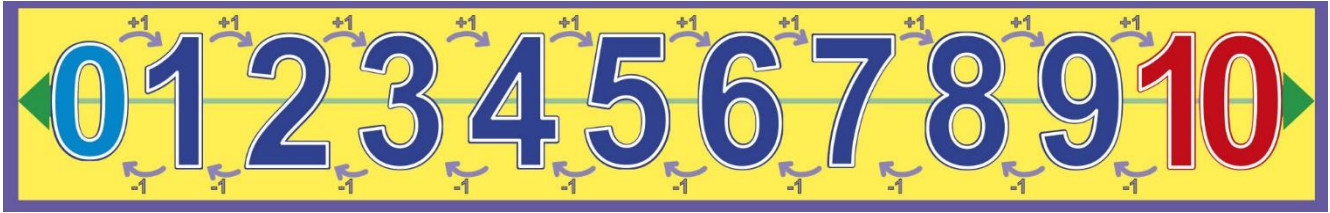
6



5

2. ДOБAВb ЧИCЛO

		2			5			8		
--	--	---	--	--	---	--	--	---	--	--



10		8	7				3		1	
----	--	---	---	--	--	--	---	--	---	--

3. НАПИШИ ЧИСЛО

ВОСЕМЬ	
ДЕСЯТЬ	
ЧЕТЫРЕ	
ТРИНАДЦАТЬ	
ДВАДЦАТЬ	

4. СРАВНИ (< > =)

5. РЕШИ ПРИМЕРЫ

$$1 + 1 =$$

$$2 - 1 =$$

$$2 + 1 =$$

$$3 - 1 =$$

$$3 + 1 =$$

$$4 - 1 =$$